

Darllen y Llun

dis, **3** dot ar bob dis
 dot i gyd

Mae rhai dis wedi eu cuddio.

dis, **4** dot ar bob dis
20 i gyd

dis, **5** dot ar bob dis
30 dot i gyd

dis, **3** dot ar bob dis
21 dis i gyd

Darllen y Llun

3 rhes **6** colofn
 dot i gyd

Mae rhai dotiau wedi eu cuddio

2 rhes colofn
18 dot i gyd

rhes **8** colofn
24 dot i gyd

4 rhes colofn
28 dot i gyd

Archwilio

Gan ddefnyddio **20 gwelltyn** rwy'n gallu creu...



triongl, a dros ben. sgwâr, a dros ben.

pentagon, a dros ben. hecsagon, a dros ben.

Archwilio

Isod, mae yna **3 sgwâr** a **2 gwelltyn dros ben**.



Aildrefnwch rhai o'r gwellt.

Mae triongl a gwelltyn dros ben.

Mae **2** a **4** gwelltyn dros ben.

Archwilio

Mae **6 triongl** a **0 gwellt dros ben**.




Aildrefnwch rhai o'r gwellt

Mae sgwâr a gwelltyn dros ben.

Mae **3** a **0** gwelltyn dros ben.

Esbonio'r Gwall



Gan ddefnyddio 13 gwelltyn, mae modd creu 3 triongl gyda 4 gwelltyn dros ben

Darllen y Llun

Ar gyfer pob llun, sawl gwelltyn sydd i gyd?

Mae yna **5 triongl** a **2 gwelltyn dros ben**.
Mae rhai o'r trionglau wedi eu cuddio.



Mae yna **6 sgwâr** a **3 gwelltyn dros ben**.
Mae rhai o'r sgwariau wedi eu cuddio.



Esbonio

Cwestiwn A: Sawl triongl gallwn eu creu gan ddefnyddio **12 gwelltyn**?



Cwestiwn B: Sawl hecsagon gallwn eu creu gan ddefnyddio **24 gwelltyn**?



Rwyf wedi sylwi...

Mae hwn oherwydd...


Mewn sawl ffordd gwahanol

Defnyddiwch **24 gwelltyn**.

Rhaid creu'r **un siâp** sawl gwaith.

Ni fydd **unrhyw wellt dros ben**.

Sawl ffordd wahanol sydd?




Mewn sawl ffordd gwahanol

Defnyddiwch **17 gwelltyn**.

Rhaid creu'r **un siâp** sawl gwaith.

Rhaid cael **2 gwelltyn dros ben**.



Sawl ffordd wahanol sydd?



Sawl ffordd sydd?

Lluniwch arae gan ddefnyddio **20 cownter**.

Ysgrifennwch sawl **rhes** a **cholofn** fydd ymhob arae.

Arae enghreifftiol	12 cownter
	2 rhes
	6 colofn

Lefel 1: Rwyf wedi dod o hyd i un ateb posib

Lefel 2: Rwyf wedi dod o hyd i wahanol atebion posib

Lefel 3: Rwy'n gwybod sawl ateb posib sydd




Ymestyn

Sawl arae gwahanol gellid eu creu gan ddefnyddio:

(a) 16 cownter

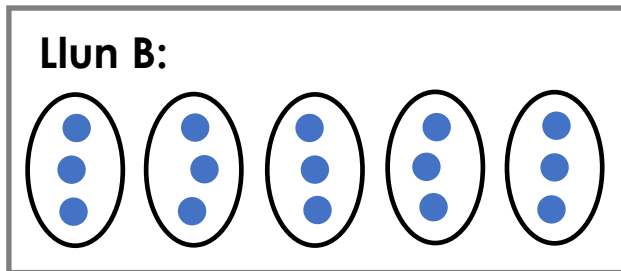
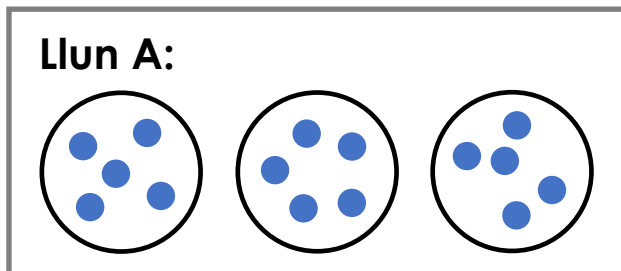
(b) 17 cownter

(c) 21 cownter

Arae enghreifftiol gydag 8 cownter:
 
Dau arae posib. 

Darllen y Llun

Pa lun sy'n dangos $15 \div 5$?



Lluniadu

Lluniwch ddiagram sy'n dangos yr ateb i bob cwestiwn:

(a) 14 afal wedi'u rhannu'n gyfartal rhwng 2 berson.
Faint o afalau fydd gan bob un?

(b) Mae 14 o sanau.
Sawl pâr o sanau gellid eu creu?

Beth sy'n debyg? Beth sy'n wahanol?

Lluniadu

Lluniwch ddiagram sy'n dangos yr ateb i bob cwestiwn:

(a) 20 person yn teithio i'r gêm. Mae 4 person ymhob car.
Sawl car bydd eu hangen?

(b) 20 sticer i'w rhannu'n gyfartal rhwng 4 o blant.
Sawl sticer bydd pob plentyn yn eu derbyn?

Beth sy'n debyg? Beth sy'n wahanol?

Esbonio

Mae Joy a Zara yn cyfrifo $18 \div 6$. Dyma eu dulliau:

Joy:

Rwyf wedi rhannu 18 i 6 grŵp.
Mae 3 ymhob grŵp.

Zara:

Mae gen i grwpiau o 6.
Mae 18 yn creu 3 grŵp o 6.

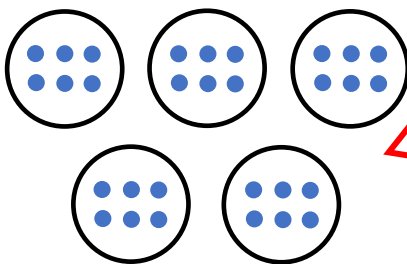
Rwy'n cytuno gyda... Ar gyfer y cwestiwn hwn, y dull gorau yw...

Darllen y Llun

Mae Tom a Kam yn creu straeon rhannu i gyd-fynd gyda'r llun:

Stori Tom:

Mae 30 wy yn cael eu rhoi mewn bocsys o 6.
Sawl bocsy sydd angen?



Stori Kam:

Mae 30 o losin yn cael eu rhannu rhwng 5 o blant.
Faint o losin bydd pob plentyn yn ei dderbyn?

**Cymharwch y ddau stori. Beth sy'n debyg / wahanol?
P'un o'r straeon sy'n cyd-fynd gyda'r llun?**

Gwir neu Gau? ✓ neu ✗

$6 \times 4 = 24$

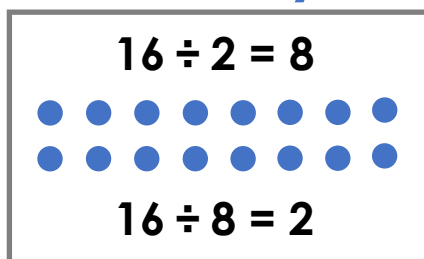
$6 \div 4 = 24$ ←
 $24 \div 4 = 6$ ←
 $6 \div 24 = 4$ ←

→ $24 \div 6 = 4$
 → $24 = 6 \div 4$
 → $4 = 24 \div 6$

Rwy'n gwybod... ac felly...

$14 \div 2 = \square$

$18 \div 2 = \square$



$16 \div 4 = \square$

$24 \div 8 = \square$

Rwy'n gwybod... ac felly...

$8 \times 4 = 32$

$32 \div 8 = \square$

$5 \times 7 = 35$

$35 \div 7 = \square$

$20 \div 2 = 10$

$20 \div 4 = \square$

$24 \div 8 = 3$

$24 \div 4 = \square$

$16 \div 2 = 8$

$18 \div 2 = \square$

$12 \div 3 = 4$

$15 \div 3 = \square$

$24 \div 3 = 8$

$21 \div 3 = \square$

$30 \div 5 = 6$

$40 \div 5 = \square$

Rwy'n gwybod... ac felly...

$27 \div 3 = 9$

$27 \div 9 = \square$

$27 \div 3 = 9$

$24 \div 3 = \square$

$40 \div 5 = 8$

$45 \div 5 = \square$

$40 \div 5 = 8$

$35 \div 5 = \square$

$24 \div 4 = 6$

$\square \div 4 = 5$

$24 \div 4 = 6$

$\square \div 4 = 7$

$15 \div 3 = 5$

$21 \div 3 = \square$

$15 \div 3 = 5$

$30 \div 6 = \square$

Cwestiynau Tebyg

$20 \div 5 = \square$

$30 \div 5 = \square$

$30 \div 6 = \square$

$30 \div 3 = \square$

...yn ddwbl...

$16 \div 8 = \square$

$16 \div 4 = \square$

$20 \div 4 = \square$

$20 \div 5 = \square$

...yr un peth â...

$24 \div 2 = \square$

$24 \div 4 = \square$

$24 \div 8 = \square$

$12 \div 4 = \square$

... 4 yn fwy na...

Cwestiynau Tebyg

$24 \div 4 = \square$

$16 \div 8 = \square$

$18 \div 9 = \square$

$28 \div 4 = \square$

$32 \div 8 = \square$

$18 \div 2 = \square$

$28 \div 7 = \square$

$40 \div 8 = \square$

$36 \div 4 = \square$

$35 \div 7 = \square$

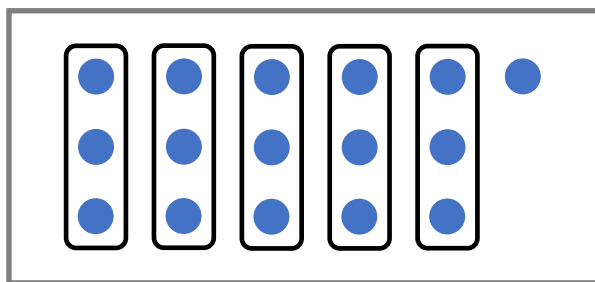
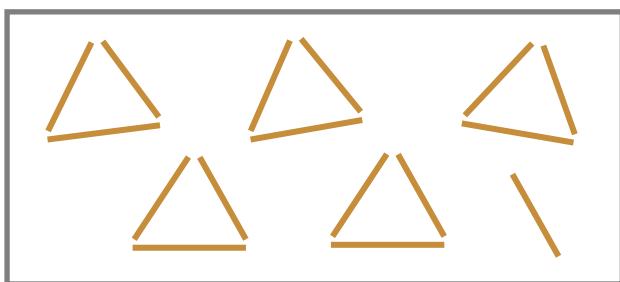
$20 \div 4 = \square$

$32 \div 4 = \square$

Estyniad: ysgrifennwch gwestiwn arall i bob dilyniant.

Darllen y Llun

Mae'r diagramau isod yn dangos **sawl 3 sydd o fewn 16:**

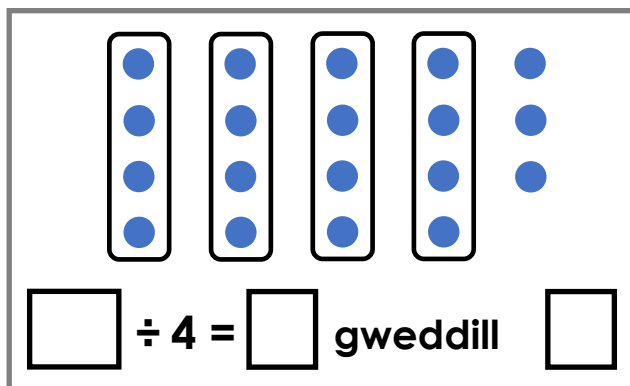
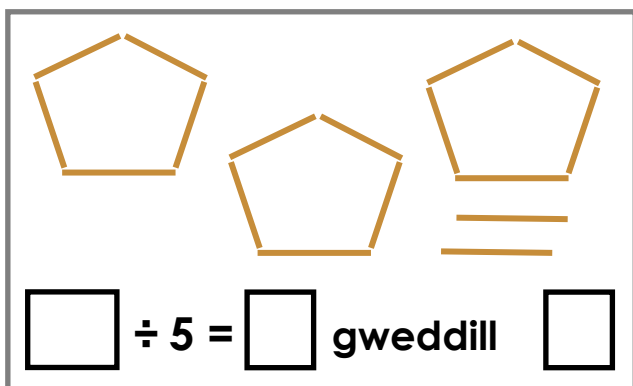


$16 \div 3 = \square \text{ gweddill } \square$


Lluniwch ddiagram sy'n dangos **sawl 4 sydd o fewn 14.**

Darllen y Llun

Ar gyfer pob diagram, **cwblhewch yr hafaliad:**



Esbonio'r Gwall



Mae hwn yn dangos bod
 $21 \div 4 = 4$ gweddill 5

Cwestiynau Tebyg

$$15 \div 5 = \square$$

$$20 \div 5 = \square$$

$$23 \div 5 = \square \text{ gweddill } \square$$

$$28 \div 5 = \square \text{ gweddill } \square$$

$$\square \div 5 = 6 \text{ gweddill } 4$$

$$12 \div 4 = \square$$

$$20 \div 4 = \square$$

$$22 \div 4 = \square \text{ gweddill } \square$$

$$25 \div 4 = \square \text{ gweddill } \square$$

$$\square \div 4 = 10 \text{ gweddill } 1$$

Estyniad: ychwanegwch ddau gwestiwn i bob dilyniant.

Cwestiynau Tebyg

$$30 \div 10 = \square$$

$$30 \div 5 = \square$$

$$34 \div 5 = \square \text{ gweddill } \square$$

$$34 \div 4 = \square \text{ gweddill } \square$$

$$\square \div 4 = 6 \text{ gweddill } 1$$

$$20 \div 4 = \square$$

$$28 \div 4 = \square$$

$$28 \div 8 = \square \text{ gweddill } \square$$

$$33 \div 8 = \square \text{ gweddill } \square$$

$$\square \div 4 = 8 \text{ gweddill } 3$$

Estyniad: ychwanegwch dau gwestiwn i bob dilyniant.

Esbonio

Pa rifau sydd **â gweddill** yn dilyn y swm rhannu?

...rhannu â 5?

14 20 35 32 100

...rhannu â 4?

14 20 35 32 100

Wrth $\div 5$, rwy'n gwybod na fydd ...â gweddill oherwydd...

Wrth $\div 4$, mae odrifau ... Wrth $\div 4$, mae eilrifau ...

Mewn sawl ffordd wahanol

Atebwch pob cwestiwn mewn **3 gwahanol ffordd**:

$$14 \div \square = \square \text{ gweddill } 2 \qquad 14 \div \square = \square \text{ gweddill } 2$$

$$14 \div \square = \square \text{ gweddill } 2$$

$$31 \div \square = \square \text{ gweddill } 1 \qquad 31 \div \square = \square \text{ gweddill } 1$$

$$31 \div \square = \square \text{ gweddill } 1$$

Estyniad: Lluniwch gwestiwn arall sydd â 3 ateb.

Ymestyn

$$20 \div 8 = 2 \text{ gweddill } \square$$

$$23 \div 4 = 5 \text{ gweddill } \square$$

$$27 \div 4 = \square \text{ gweddill } 3$$

$$15 \div 8 = \square \text{ gweddill } 7$$

$$20 \div \square = 6 \text{ gweddill } 2$$

$$19 \div \square = 9 \text{ gweddill } 1$$

$$\square \div 5 = 7 \text{ gweddill } 1$$

$$\square \div 8 = 3 \text{ gweddill } 2$$

Esbonio

$$\square \div 4 = \square \text{ gweddill } \square$$

'Y rhif mwyaf gall y gweddill fod yw ... oherwydd ...

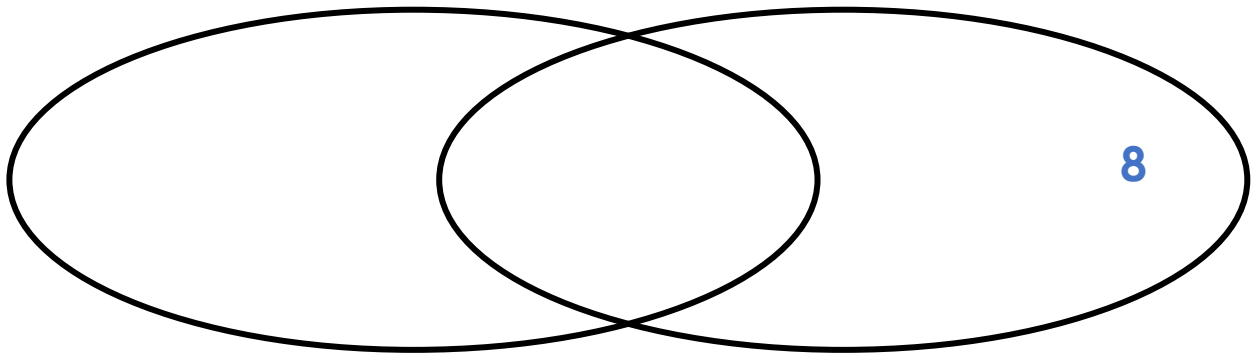
Archwilio

Rhowch y rhifau yn rhanbarth cywir y diagram Venn:

16 20 14 24 18

Dim gweddill ar ôl rhannu â **3**

Dim gweddill ar ôl rhannu â **4**



Estyniad: Ychwanegwch rif arall at bob rhanbarth.

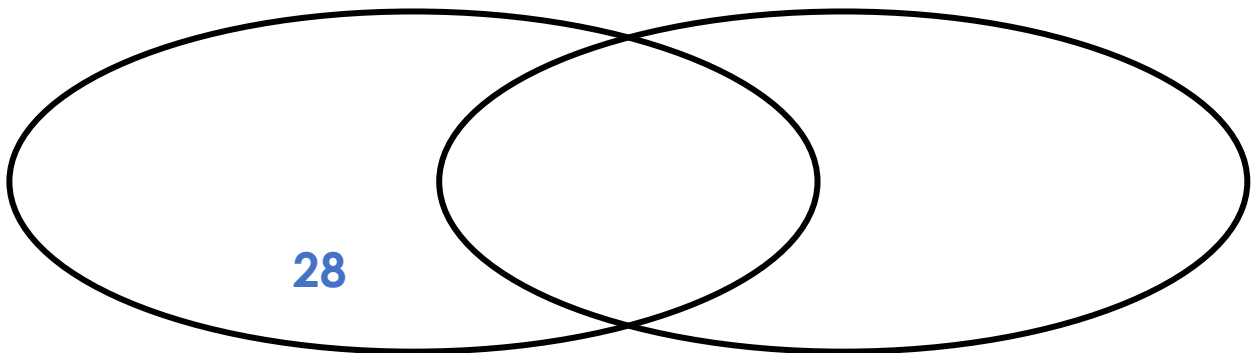
Archwilio

Rhowch y rhifau yn rhanbarth cywir y diagram Venn:

20 24 34 50 100

Dim gweddill ar ôl rhannu â **4**

Dim gweddill ar ôl rhannu â **5**



Estyniad: Ychwanegwch rif arall at bob rhanbarth.

Esbonio

Pa gwestiynau sydd ag ateb sy'n **gyfanrif 2-ddigid**

$64 \div 8 =$

$60 \div 5 =$

$26 \div 2 =$

$36 \div 3 =$

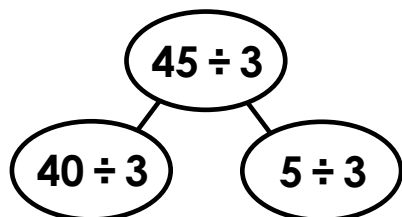
$36 \div 4 =$

Esboniwch sut rydych yn gwybod heb gyfrifo'r ateb.

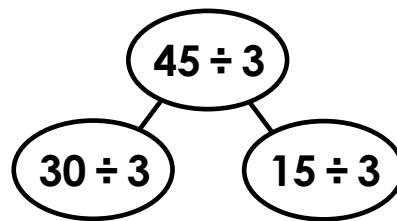
Pa ddull?

Er mwyn cyfrifo $45 \div 3$, sydd gall 45 gael ei ddyrannu?

Dyrannu 45 fel 40 a 5



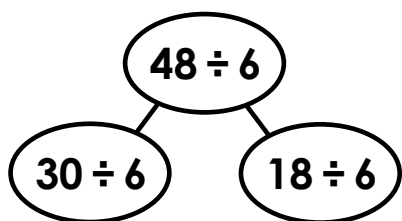
Dyrannu 45 fel 30 a 15



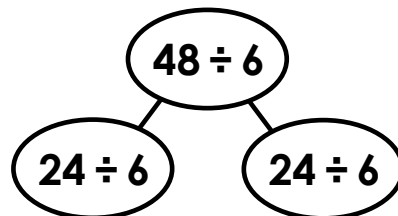
Cytuno neu Anghytuno?

I gyfrifo $48 \div 6$:

Dyrannu 48 fel 30 a 18



Dyrannu 48 fel 24 a 24



Rwy'n gwybod... ac felly...

$40 \div 4 = 10$

$30 \div 3 = 10$

$50 \div 5 = \square$

$8 \div 4 = 2$

$18 \div 3 = \square$

$15 \div 5 = \square$

$48 \div 4 = \square$

$48 \div 3 = \square$

$65 \div 5 = \square$

Estyniad: creu set o gyfrifiadau eich hun.

Cwblhau'r Enghraifft

$$\begin{array}{c}
 39 \div 3 \\
 \swarrow \quad \searrow \\
 30 \div 3 = \square \quad 9 \div 3 = \square \\
 39 \div 3 = \square
 \end{array}$$

$$\begin{array}{c}
 70 \div 5 \\
 \swarrow \quad \searrow \\
 50 \div 5 = \square \quad 20 \div 5 = \square \\
 70 \div 5 = \square
 \end{array}$$

$$\begin{array}{c}
 52 \div 4 \\
 \swarrow \quad \searrow \\
 40 \div 4 = \square \quad 12 \div 4 = \square \\
 52 \div 4 = \square
 \end{array}$$

$$\begin{array}{c}
 54 \div 3 \\
 \swarrow \quad \searrow \\
 30 \div 3 = \square \quad 24 \div 3 = \square \\
 54 \div 3 = \square
 \end{array}$$

Esbonio'r Gwall

Gwall A:

$$\begin{array}{c}
 56 \div 4 \\
 \swarrow \quad \searrow \\
 50 \div 4 = 12 \quad 6 \div 4 = 2 \\
 \underline{56 \div 4 = 14}
 \end{array}$$

Gwall B:

$$\begin{array}{c}
 75 \div 5 \\
 \swarrow \quad \searrow \\
 50 \div 5 = 10 \quad 25 \div 5 = 3 \\
 \underline{75 \div 5 = 13}
 \end{array}$$

Mewn sawl ffordd wahanol

$$\begin{array}{c}
 60 \div 5 \\
 \swarrow \quad \searrow \\
 \square \div 5 = \square \quad 10 \div 5 = 2 \\
 60 \div 5 = \square
 \end{array}$$

$$\begin{array}{c}
 60 \div 5 \\
 \swarrow \quad \searrow \\
 \square \div 5 = \square \quad 20 \div 5 = 4 \\
 60 \div 5 = \square
 \end{array}$$

$$\begin{array}{c}
 64 \div 4 \\
 \swarrow \quad \searrow \\
 \square \div 4 = \square \quad 24 \div 4 = 6 \\
 64 \div 4 = \square
 \end{array}$$

$$\begin{array}{c}
 64 \div 4 \\
 \swarrow \quad \searrow \\
 \square \div 4 = \square \quad 32 \div 4 = 8 \\
 64 \div 4 = \square
 \end{array}$$

Graddio'r Lefel Her

$38 \div 4 =$

$27 \div 9 =$

$40 \div 3 =$

$80 \div 5 =$

$100 \div 4 =$

Mae gweddill yn ateb ...

Rwy'n gwybod bod yr ateb i ... yn rhif un-digid oherwydd...


Er mwyn cyfrifo ... rwyf yn dosrannu ... fel...

Sawl ffordd sydd??

Defnyddiwch y digidau 0→9.

Rhowch 0 yn y safle isod:

$\square \square 0 \div \square = \square$



Lefel 1: Rwyf wedi dod o hyd i un ateb posib

Lefel 2: Rwyf wedi dod o hyd i wahanol atebion posib


Lefel 3: Rwy'n gwybod sawl ateb posib sydd

Sawl ffordd sydd??

Defnyddiwch y digidau 0→9.

Rhowch 8 yn y safle isod

$\square \square 8 \div \square = \square$



Lefel 1: Rwyf wedi dod o hyd i un ateb posib

Lefel 2: Rwyf wedi dod o hyd i wahanol atebion posib

Lefel 3: Rwy'n gwybod sawl ateb posib sydd

Does **dim** modd rhannu â... oherwydd...

I SEE REASONING – BI.3

Atebion

Rhannu, tudalen 1:

Darllen y Llun: Chwith top: 6 dis, 18 smotyn i gyd Top dde: 5 dis
Gwaelod chwith: 6 dis Gwaelod dde: 7 dis

Darllen y Llun: Top chwith: 18 smotyn Top dde: 9 colofn
Gwaelod chwith: 3 rhes Gwaelod dde: 7 colofn

Rhannu, tudalen 2:

Archwilio: 6 triongl, 2 dros ben. 5 sgwâr, 0 dros ben.
4 pentagon, 0 dros ben 3 hecsagon, 2 dros ben.

Archwilio: 4 triongl a 2 dros ben. 2 **pentagon** a 4 dros ben.

Archwilio: 4 sgwâr a 2 dros ben. 3 **hecsagon** a 0 dros ben.

Rhannu, tudalen 3:

Esbonio'r Gwall: Gellid creu triongl arall gan ddefnyddio'r pedwar gwelltyn sy'n weddill.

Darllen y Llun: Top: 17 Gwaelod: 21

Esbonio: Cwestiwn A: 4 triongl Cwestiwn B: 4 hecsagon Mae dwbli nifer y gwellt a dwbli nifer yr ochrau ymhob siâp yn golygu byddwn yn creu'r un nifer o siapau.

Rhannu, tudalen 4:

Mewn sawl ffordd wahanol: Siapau posib: triongl, sgwâr, hecsagon, pentagon, (siâp 12-ochr)

Mewn sawl ffordd wahanol: Siapau posib: triongl, pentagon

Sawl ffordd sydd? Chwech ffordd: 1 rhes, 20 colofn, 2 rhes, 10 colofn
4 rhes, 5 colofn, 5 rhes, 4 colofn, 10 rhes, 2 colofn, 20 rhes, 1 colofn

Ymestyn: (a) 3 ffordd: arae 4×4 , arae 8×2 , arae 16×1 (6 ffordd gydag arae gwrthdro)

(b) 1 ffordd: arae 17×1 (2 ffordd gydag arae gwrthdro)

(c) 2 ffordd: arae 7×3 ac arae 21×1 (4 ffordd gydag arae gwrthdro)

I SEE REASONING – BI.3

Atebion

Rhannu, tudalen 5:

Darllen y llun: Mae'r ddau yn dangos $15 \div 5$: Llun A yn dangos grwpio (3 lot o 5 fel 15, yr ateb yw nifer y grwpiau). Llun B yn dangos rhannu (15 wedi ei rannu i 5 grŵp, 3 ymhob grŵp, yr ateb yw'r nifer sydd ymhob grŵp).

Lluniadu: (a) Llun 2 grŵp o 7 (b) Llun 7 grŵp o 2

Lluniadu: (a) Llun 5 grŵp o 4 (b) Llun 4 grŵp o 5

Rhannu, tudalen 6:

Esbonio: Mae'r ddau ddull yn creu'r un ateb. Mae Joy yn rhannu (yr ateb yw'r nifer sydd ymhob grŵp). Mae Zara yn grwpio (yr ateb yw nifer y grwpiau).

Darllen y llun: Mae Tom yn defnyddio stori grwpio er mwyn dangos $30 \div 6 = 5$, yr ateb yw nifer y grwpiau. Mae Kam yn defnyddio stori rhannu i ddangos $30 \div 5 = 6$, yr ateb yw'r nifer sydd ymhob grŵp.

Gwir neu Gau? Datganiadau gwir: $24 \div 4 = 6$ $24 \div 6 = 4$ $4 = 24 \div 6$

Rhannu, tudalen 7:

Rwy'n gwybod... ac felly... $14 \div 2 = 7$ $18 \div 2 = 9$ $16 \div 4 = 4$ $24 \div 8 = 3$

Rwy'n gwybod... ac felly... $32 \div 8 = 4$ $35 \div 7 = 5$ $20 \div 4 = 5$ $24 \div 4 = 6$

$18 \div 2 = 9$ $15 \div 3 = 5$ $21 \div 3 = 7$ $40 \div 5 = 8$

Rwy'n gwybod... ac felly... $27 \div 9 = 3$ $24 \div 3 = 8$ $45 \div 5 = 9$ $35 \div 5 = 7$

$20 \div 4 = 5$ $28 \div 4 = 7$ $21 \div 3 = 7$ $30 \div 6 = 5$

Cwestiynau Tebyg: Colofn chwith: 4, 6, 5, 10

Colofn canol: 2, 4, 5, 4 Colofn dde: 12, 6, 3, 3

Rhannu, tudalen 8:

Cwestiynau Tebyg: Colofn chwith: 6, 7, 4, 5

Colofn canol: 2, 4, 5, 5 Colofn dde: 2, 9, 9, 8

Darllen y llun: $16 \div 3 = 5$ gweddill 1

Darllen y llun: Llun chwith: $17 \div 5 = 3$ gweddill 2

Llun dde: $19 \div 4 = 4$ gweddill 3

I SEE REASONING – BI.3

Atebion

Rhannu, tudalen 9:

Esbonio'r Gwall: Dydy'r gweddill ddim yn fwy na'r rhanydd. Gellid creu sgwâr arall gyda'r 5 gwelltyn sy'n weddill..

Cwestiynau Tebyg: Colofn chwith: 3 4 4 g 3 5 g 3 34

Colofn dde: 3 5 5 g 2 6 g 1 41

Cwestiynau Tebyg: Colofn chwith: 3 6 6 g 4 8 g 2 25

Colofn dde: 5 7 3 g 4 4 g 1 35

Rhannu, tudalen 10:

Esbonio: Cwestiwn chwith: 14 32 Cwestiwn dde: 14 35

Mewn sawl ffordd wahanol: $14 \div 6 = 2$ g 2 $14 \div 4 = 3$ g 2 $14 \div 3 = 4$ g 2

$31 \div 10 = 3$ g 1 $31 \div 6 = 5$ g 1 $31 \div 5 = 6$ g 1 $31 \div 3 = 10$ g 1

Ymestyn: Colofn chwith: 4 6 3 36 Colofn dde: 3 1 2 26

Rhannu, tudalen 11:

Esbonio: Gweddill mwyaf posib = 3. Mae'r gweddill bob tro yn llai na'r rhanydd.

Archwilio: Rhanbarth chwith: 18 Rhanbarth canol: 24

Rhanbarth dde: 16, 20 Tu allan: 14

Archwilio: Rhanbarth chwith: 24 Rhabarth canol: 20, 100

Rhabarth dde: 50 Tu allan: 34

Rhannu, tudalen 12:

Esbonio: $36 \div 3$ $60 \div 5$ $26 \div 2$

Pa ddull? Coch sydd yn gywir gan bod 30 a 15 yn lluosrifau 3

Cytuno neu Anghytuno? Mae'r ddau ddull yn gywir

Rwy'n gwybod... ac felly... Colofn chwith: 12 Colofn canol: 6, 16

Colofn dde: 10, 3, 13

I SEE REASONING – BI.3

Atebion

Rhannu, tudalen 13:

Cwblhau'r Enghraifft: $30 \div 3 = 10$ $9 \div 3 = 3$ $39 \div 3 = 13$

$40 \div 4 = 10$ $12 \div 4 = 3$ $52 \div 4 = 13$ $50 \div 5 = 10$ $20 \div 5 = 4$ $70 \div 5 = 14$

$30 \div 3 = 10$ $24 \div 3 = 8$ $54 \div 3 = 18$

Esbonio'r Gwall: Gwall A: 50 a 6 ddim yn lluosrifau 4

Gwall B: $25 \div 5 = 5$

Mewn sawl ffordd wahanol: $50 \div 5 = 10$ $60 \div 5 = 12$ $40 \div 5 = 8$ 60
 $\div 5 = 12$ $40 \div 4 = 10$ $64 \div 4 = 16$ $32 \div 4 = 8$ $64 \div 4 = 16$

Rhannu, tudalen 14:

Graddio'r Lefel Her: $38 \div 4 = 9$ g 2 $80 \div 5 = 16$ $27 \div 9 = 3$
 $100 \div 4 = 25$ $40 \div 3 = 13$ g 1

Sawl ffordd sydd? 8 ffordd: $10 \div 2 = 5$ $10 \div 5 = 2$ $20 \div 4 = 5$
 $20 \div 5 = 4$ $30 \div 6 = 5$ $30 \div 5 = 6$ $40 \div 8 = 5$ $40 \div 5 = 8$

Sawl ffordd sydd? 8 ffordd: $18 \div 2 = 9$ $18 \div 9 = 2$ $18 \div 3 = 6$
 $18 \div 6 = 3$ $28 \div 7 = 4$ $28 \div 4 = 7$ $48 \div 6 = 8$ $48 \div 8 = 6$